
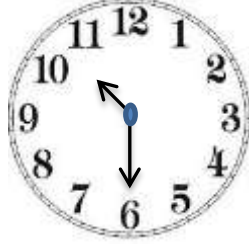


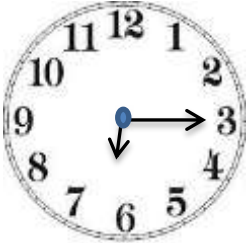
➤ Verilen saatlerin dijital saat karşılıklarını yazınız.



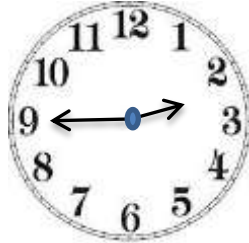
.... :



.... :



.... :



.... :

➤ Dijital karşılıkları verilen saatlerin analog saat çizimlerini yapınız.

08 : 45



03 : 15



02 : 00



06 : 30



➤ Okunuşları verilen saatlerin analog saat karşılıklarını çiziniz ve dijital gösterimlerini yazınız.

Saat 4



.... :

Saat 7 buçuk



.... :

4'ü çeyrek geçiyor.



.... :

1'i 45 geçiyor



.... :

* 4'ü 45 geçiyor ifadesinin analog ve dijital saat karşılıklarını gösteriniz. Saatin 2 farklı okunuşunu yazınız.





.... :

-

.....

-

Aşağıdaki saatlerde yelkovanı 1 tam tur attırırsak saatler kaç gösterir, altlarına yazınız.



➤ Verilen bilgileri uygun olarak eşleştiriniz.

1 hafta	30 gündür
1 ay	4 mevsimdir
1 mevsimde	7 gündür
1 yıl	3 ay vardır
1 saat	24 saattir
1 gün	60 dakikadır

Verilen mevsimlerde hangi aylar olduğunu yazınız.

Kış	
İlkbahar	
Yaz	
Sonbahar	

1.) Elif her gün 3 sayfa etkinlik okuma yapıyor. Elif 1 haftada kaç sayfa okuma yapar?

2.) Çalışmalar saat 10:00'da başladı ve 2 saat sonra bitti. Çalışmalar saat kaçta bitti?

3.) "2 hafta, 3 gün" toplam kaç gün eder?

4.) "1 ay, 3 hafta" toplam kaç gün eder?

5.) Bugün 17 Mayıs'tır. 8 gün sonra oluşacak tarihi yazınız.

6.) Bugün 4 Nisan'dır. 2 hafta sonra oluşacak tarihi yazınız.

7.) Akif 1 günde 8 saat uyuyor ve 5 saatini okulda geçiriyor. Akifin gün içinde kalan süresi kaç saattir?

8.) 3 yıl önce 7 yaşında olan Ali 5 yıl sonra kaç yaşında olacaktır?

9.) 2 yıl önce 6 yaşında olan Elif, 8 yıl sonra kaç yaşında olacaktır?

10.) Defne günde 9 saat uyuyor. Defne'nin gün içinde kalan süresi kaç saattir?

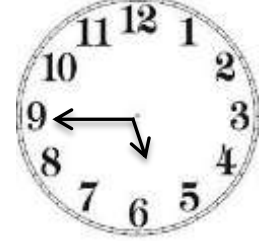
11.) Eren 3 günde bir kursa gidiyor. Kursu cuma günü başlayan Eren'in bir sonraki kursu hangi gündür?

12.) Saat 7:00 için aş. doğru-yanlış sorularını cevaplayınız.

- () Yelkovan 7'yi gösterir.
- () Tam saattir.
- () Akrep 7'yi gösterir.
- () Çeyrek saattir.
- () Yelkovan 12'yi gösterir.

13.) 1 hafta - 1 gün - 1 ay
Yukarıda verilenleri süresi en fazla olandan en az olana sıralayınız.

14.)



Verilen saat için doğru-yanlış sorularını cevaplayınız.

- () Saat 6:45'tir.
- () 6'ya 15 vardır.
- () Yelkovan 5 ile 6 arasındadır.
- () Analog saat modelidir.
- () 5'i 45 geçiyor.
- () Dijital saat modelidir.

15.) 2 ay kaç gündür?

16.) 4 hafta kaç gündür?

17.) 3 ay kaç gündür?

18.) 2 ay, 3 hafta, 4 gün toplam kaç gün eder?

Verilen saatleri istediğiniz tam saat şeklinde çiziniz, dijital gösterimlerini yazınız.



... : ...



... : ...



... : ...



... : ...

Verilen saatleri istediğiniz yarım saat şeklinde çiziniz, dijital gösterimlerini yazınız.



... : ...



... : ...



... : ...




... : ...

Verilen saatleri istediğiniz çeyrek saat şeklinde çiziniz, dijital gösterimlerini yazınız.




... : ...




... : ...

Serkan Taburoğlu



... : ...



... : ...